



وزارة التربية والتعليم
الإدارة المركزية لتطوير المناهج
مكتب مستشار الرياضيات

برعاية معالي وزير التربية والتعليم

السيد الأسناذ / محمد عبد اللطيف

ونوجيهات مساعد الوزير لشئون تطوير المناهج التعليمية
والمشرف علي الإدارة المركزية لتطوير المناهج

د / أكرم حسن

إشراف علمي
مستشار الرياضيات

أ / منال عرزول

إدعاءات ونقييمات لمنهج الرياضيات

لصف الرابع الابتدائي

للعام الدراسي 2024 / 2025

لجنة الإعداد

أ / إيمان مطفي جاب الله

لجنة المراجعة

أ / إسلام يسري

أ / محمد علي

رياضيات - 4 ب - W9 - تقييم اسبوعي

(1) التمثيل البياني الذي يعتمد في تمثيله على خط الأعداد يسمى

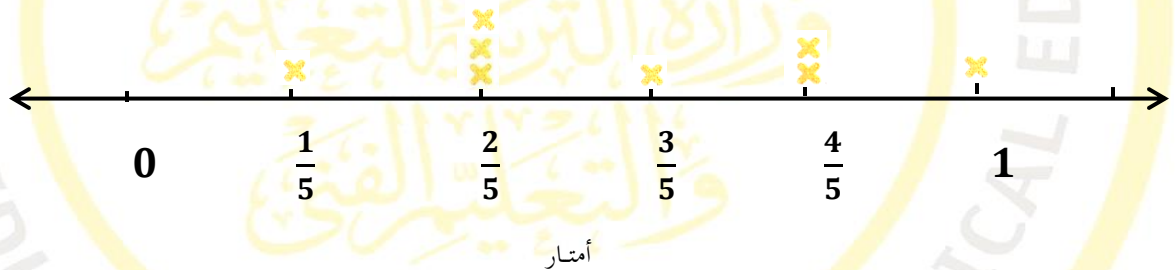
(2) العددين اللذان لهما نفس التكرار هما ،



(3) التمثيل البياني المناسب لمقارنة درجات مالك وعمر في اختبارات الشهر هو

(4) استخدم مخطط التمثيل بالنقاط للإجابة عن السؤال التالي

مسافة الوثب الطويل



- ما عدد التلاميذ الذين قفزوا $\frac{3}{5}$ متر أو أكثر؟

(5) الخطوط الأفقية والرأسية على الرسم البياني تسمى

رياضيات - 4 ب - W9 - تقييم اسبوعي

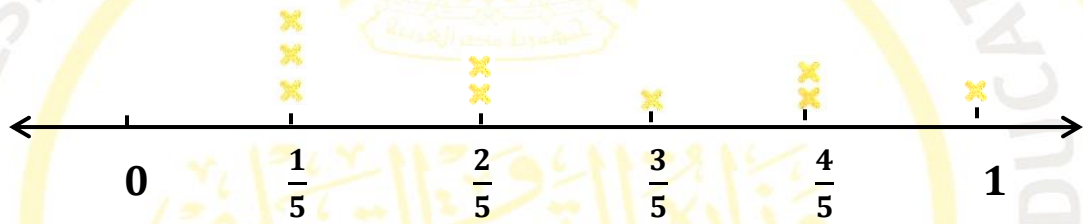
(1) أكتب عناصر التمثيل البياني .

(2) التمثيل البياني المناسب لتمثيل درجات الحرارة العظمى والصغرى لبعض المدن هو

(3) مثل البيانات التالية التي تبين أطوال النباتات بالسنتيمتر باستخدام مخطط التمثيل بالنقاط :

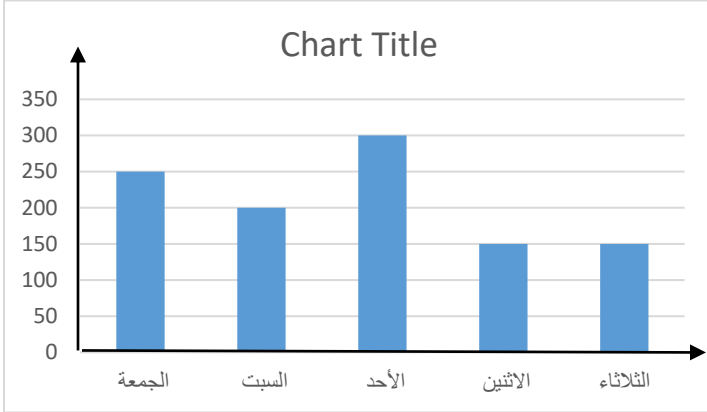
$5\frac{1}{4}$ ، 4 ، $4\frac{1}{4}$ ، $5\frac{1}{4}$ ، $4\frac{1}{2}$ ، 5 ، 4 ، $4\frac{1}{4}$ ، $5\frac{1}{2}$ ، $4\frac{1}{4}$ ، 4

(4) العدد الأكثر تكراراً في المخطط المقابل هو



(5) عندما تكون البيانات أعداداً يمكن استخدام التمثيل بـ لتمثيلها على خط الأعداد.

رياضيات - 4 ب - W9 - تقييم اسبوعي



(1) من الرسم المقابل أجب :

أ - ما اليوم الذي ذهب فيه أكبر عدد من الأفراد ؟

.....

ب- ما عدد الأفراد الذين ذهبوا يوم السبت ؟

.....

(2) التمثيل البياني المناسب للمقارنة بين درجات الحرارة الصغرى والكبرى لبعض المدن هو

(3) التمثيل البياني الذي لا يحتوي على أعمدة هو تمثيل بياني ب -

(4) من خلال الجدول المادة الأكثر تفضيلاً

المادة	لغة عربية	علوم	رياضيات	دراسات
عدد التلاميذ	30	25	35	20

للتلاميذ هي

(5) الجدول التالي يوضح الرياضة المفضلة لعدد

الرياضة	كرة السلة	كرة القدم	السباحة	الجمباز
عدد التلاميذ	15	25	10	5

من التلاميذ .

- مثل البيانات باستخدام الأعمدة.