



وزارة التربية والتعليم
الإدارة المركزية لتطوير المناهج
مكتب مستشار الرياضيات

برعاية معالي وزير التربية والتعليم السيد الأسناذ / محمد عبد اللطيف

ونوجيهات مساعد الوزير لشئون تطوير المناهج التعليمية
والمشرف علي الإدارة المركزية لتطوير المناهج

د / أكرم حسن

إشراف علمي
مستشار الرياضيات

أ / منال عرزول

إداءات و تقييمات لمنهج الرياضيات

لصف الرابع الابتدائي

للعام الدراسي 2024 / 2025

لجنة الإعداد

أ / إيمان مطفي جاب الله

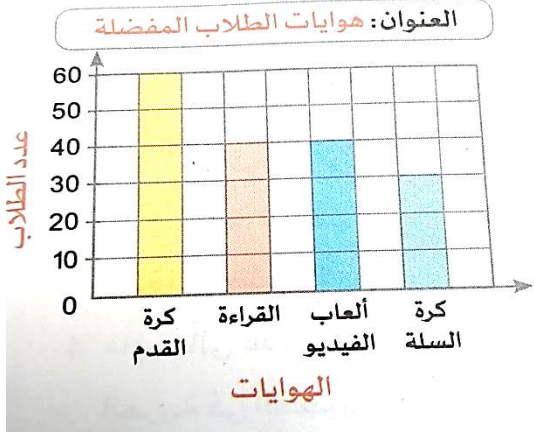
لجنة المراجعة

أ / إسلام يسري

أ / محمد علي

رياضيات - 4 ب - W9 - أداء منزلي

1) استخدم التمثيل البياني بالاعمدة " هوايات الطلاب " للإجابة عن الأسئلة الآتية: -



أ. ما الهواية التي يفضلها أكبر عدد من الطلاب ؟

ب. كم عدد الطلاب الذين يفضلون كرة القدم ؟

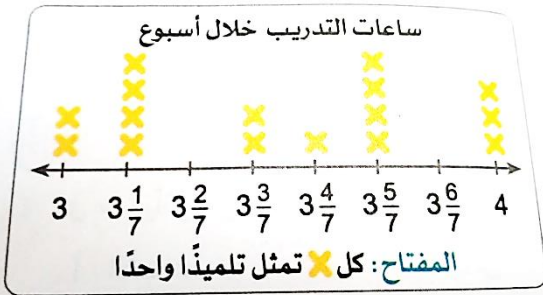
2) الخطوط الرأسية والافقية على الرسم البياني تسمى.....

3) عند تمثيل عدد أيام غياب مالك وعمر معا نستخدم التمثيل البياني ب.....

4) من الرسم المقابل أجب عن الاسئلة الآتية:-

أ. عدد الساعات التي يتدرّبها تلميذ واحد فقط.....

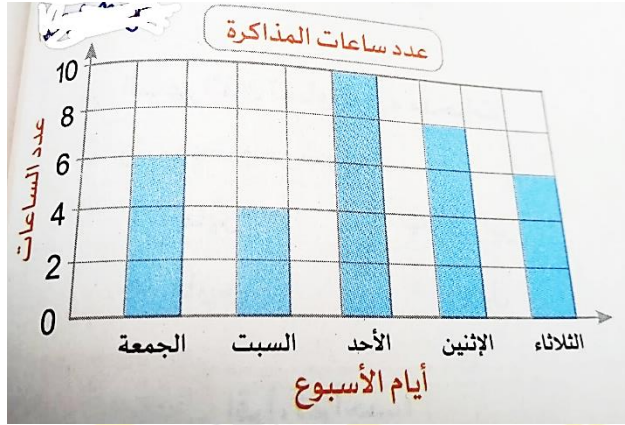
ب. اقل عدد من الساعات التي يتدرّبها التلاميذ هو..... ساعات



5- مثل البيانات التالية باستخدام الأعمدة :

الاسم	أحمد	حاتم	زياد	رامي
عدد الساعات	$2\frac{1}{2}$	$3\frac{1}{4}$	$1\frac{3}{4}$	3

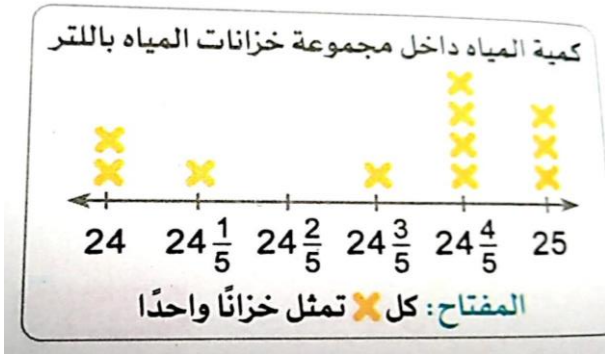
(6) الرسم المقابل يوضح عدد ساعات المذاكرة لأحد التلاميذ خلال 5 أيام ما عدد ساعات المذاكرة يوم الجمعة...



(7) التمثيل البياني الذي يستخدم فيه خط الاعداد لتمثيل البيانات هو التمثيل ب.....

(8) من التمثيل المقابل:

- عدد الخزانات التي بها 25 لترا من المياه هو



(9) يستخدم الرمز (X) تلميذاً واحداً في التمثيل البياني ب.....

(10) الجدول التالي يمثل أطوال مجموعة التلاميذ بالتر. مثل البيانات بالعمدة:-

اسم التلميذ	أحمد	مازن	علا	رحمة
الطول بالتر	$1\frac{1}{4}$	1	$1\frac{1}{4}$	$\frac{3}{4}$