



وزارة التربية والتعليم

الإدارة المركزية لتطوير المناهج

إدارة تنمية مادة الرياضيات

أداءات ونقيمات لمنهج الرياضيات

للسف الرابع الابتدائى

للعام الدراسى 2024 / 2025

الرياضيات

رياضيات - 4 ب - W11 - أداء منزلي

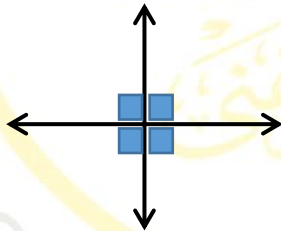
(1) مستخدماً شبكة النقاط والمسطرة أكمل :



(2) عدد الزوايا في الشكل المقابل.....

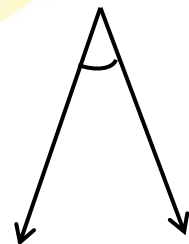

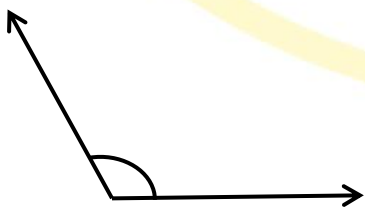


(3) عدد الزوايا القائمة في الشكل المقابل يساوي.....



(4) الزاوية الأقل من الزاوية القائمة هي زاوية.....

(5) أي من الزوايا الآتية زاوية منفرجة :

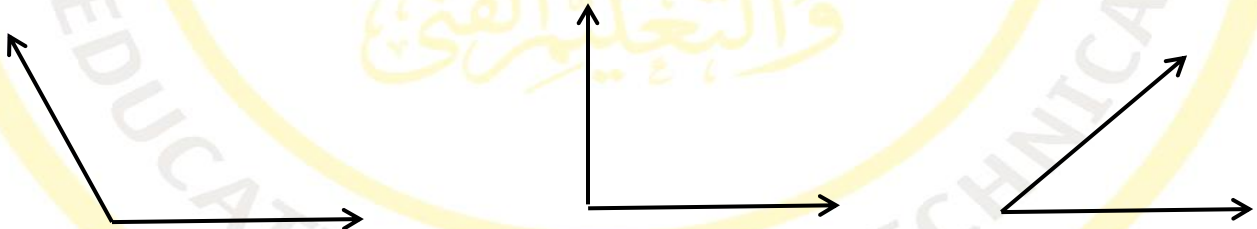




(7) ما اسم المضلع الذي يتكون من 3 أضلاع؟

(8) الزاوية المقابلة تسمى زاوية

(9) أي من الزوايا الآتية زاوية منفرجة؟



(10) العلاقة بين الخطين المستقيمين في الشكل المقابل

