



وزارة التربية والتعليم

الإدارة المركزية لتطوير المناهج

إدارة تنمية مادة الرياضيات

أداءات ونقييمات لمنهج الرياضيات

للسف الرابع الابتدائي

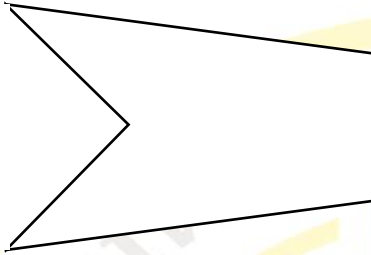
للعام الدراسي 2024 / 2025

الرياضيات

رياضيات - 4 ب - W11 - أداء صفي

المجموعة الأولى :-

1) ما اسم الشكل الذي يتكون من 6 أضلاع ؟



2) ما هذا الشكل الهندسي ؟ .....


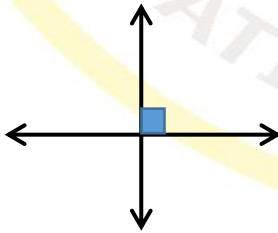
3) ارسم مثلاً على أنواع الخطوط التالية

الخطوط المتقاطعة - الخطوط المتوازية

4) الخطان اللذان لا يتقاطعان أبداً يجب أن يكونا .....

5) ما أسم المضلع الذي يتكون من 4 أضلاع ؟ .....

6) أكتب العلاقة بين كل زوج من الخطوط الاتيه :-

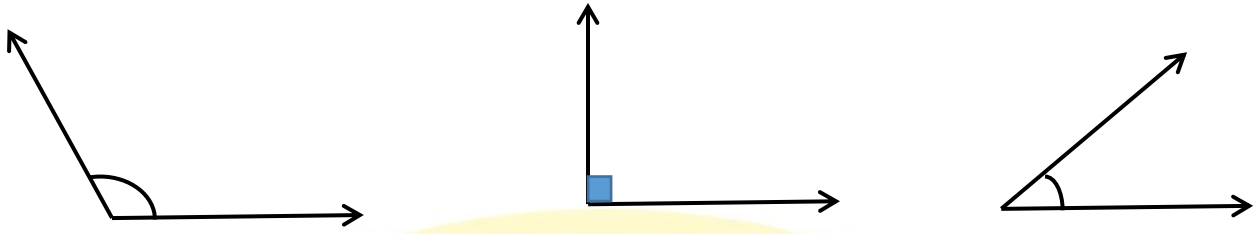


.....

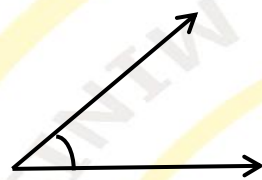
.....

.....

(7) أكتب نوع كل من الزوايا الآتية :-

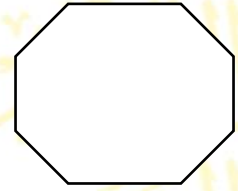


.....



(8) نوع الزاوية المقابلة هي زاوية .....

(9) ما اسم الشكل الذي يتكون من 3 زوايا .....



(10) ما أسم الشكل الهندسي المقابل .....