



وزارة التربية والتعليم

الإدارة المركزية لتطوير المناهج

إدارة تنمية مادة الرياضيات

أداءات ونقييمات لمنهج الرياضيات




للسف الرابع الابتدائى

للعام الدراسى 2024 / 2025

الرياضيات

رياضيات - 4 ب - الأسبوع العاشر ترم ثاني - أداء صفي

1) صل اسم الشكل برمزهِ وصورتَهُ في الجدول التالي :

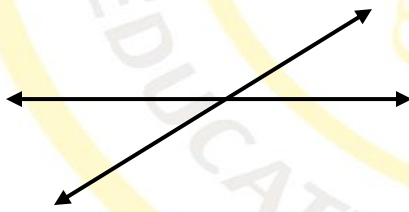
اسم الشكل	رمزه	صورته
خط مستقيم	\overrightarrow{RS}	
شعاع	\overrightarrow{RS}	
قطعة مستقيمة	\overleftrightarrow{RS}	

2) ما اسم المضلع الذي يتكون من 5 أضلاع ؟

3) ما اسم المضلع الذي يتكون من 3 زوايا فقط ؟

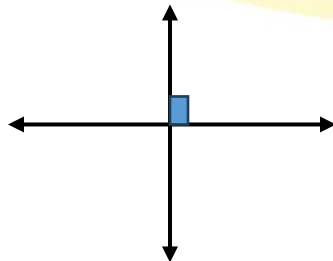
4) هذان المستقيمان في الشكل المقابل متعامدان .


هل هذه الجملة صحيحة ؟ ولماذا ؟



5) هذان المستقيمان في الشكل المقابل متعامدان .

هل هذه الجملة صحيحة ؟ ولماذا ؟







6) هذان المستقيمان في الشكل المقابل متعامدان .
هل هذه الجملة صحيحة ؟ ولماذا ؟



7) ما عدد خطوط تماثل المستطيل ؟



8) ما عدد خطوط تماثل المربع ؟



9) ما عدد خطوط تماثل المثلث المتساوي الأضلاع ؟

10) ما عدد خطوط تماثل شبه المنحرف متساوي الساقين ؟

