



وزارة التربية والتعليم
الإدارة المركزية لتطوير المناهج
مكتب مستشار الرياضيات

برعاية معالي وزير التربية والتعليم السيد الأستاذ / محمد عبد اللطيف

ونوجيهات رئيس الإدارة المركزية لتطوير المناهج

د / أكرم حسن

إشراف علمي
مستشار الرياضيات

أ / منال عزقول

أداءات ونقيمان لمنهج الرياضيات

للسف الثالث الإبنائي

للعام الدراسي 2024 / 2025

لجنة الإعداد

أ / عادل بيومي

أ / إسلام يسري

لجنة المراجعة

أ / إسلام يسري

أ / محمد مغيرة

تقييم الإِسبوع العاشر

الفصل الدراسي الأول

الصف الثالث الابتدائي

الإِسبوع العاشر : الفصل الرابع والخامس : الدروس (٧ ، ١ ، ٢)

المجموعة الأولى : أجب عن الأسئلة الآتية :

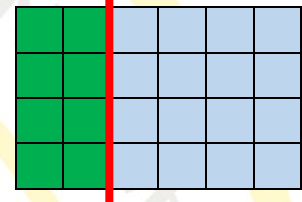
(١) المصفوفة التالية مقسومة إلى مصفوفتين . أكمل باستخدام خاصية التوزيع

$$\square = \dots \times \dots$$

$$\square = \dots \times \dots$$

$$\bigcirc = \square + \square$$

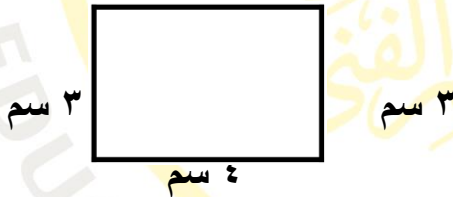
$$= ٤ \times ٦$$



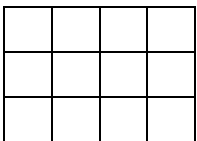
(٢) استخدم خاصية التوزيع في حل المسألة $٨ \times ٨ = (\dots \times ٨) + (٣ \times \dots)$

(٣) احسب محيط المضلع المقابل

المحيط = سم



٤ أمتار



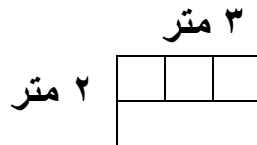
٣ أمتار

(٤) احسب محيط ومساحة حظيرة الماعز التي يمثلها المضلع المقابل

المحيط = مترا

المساحة = مترا مربعا

(٥) سجادة على شكل المضلع التالي ، ما مساحتها ؟



مساحة السجادة = مترا مربعا

المجموعة الثانية : أجب عن الأسئلة الآتية :

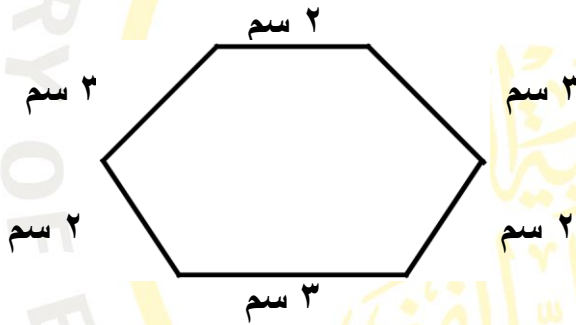
(١) قسم المصفوفة التالية واستخدم خاصية التوزيع في إيجاد المساحة

(٢) استخدم خاصية التوزيع في إكمال المسألة

$$(3 \times \dots) + (3 \times \dots) = 3 \times 8$$

$$\dots + \dots = \dots$$

$$\dots = \dots$$



(٣) احسب محيط المضلع المقابل

المحيط = سم

(٤) حظيرة الخراف على شكل مستطيل طوله ٦ أمتار وعرضه ٣ أمتار احسب طول السور المقام حولها

٦ أمتار

٣ أمتار

٥ أمتار

(٥) صالة على شكل مضلع أبعادها موضحة بالرسم أحسب مساحتها

٤ أمتار

المساحة = مترا مربعا

المجموعة الثالثة : أجب عن الأسئلة الآتية :

(١) قسم المصفوفة التالية واستخدم خاصية التوزيع في إيجاد المساحة

.....
.....
.....

(٢) احسب محيط ومساحة حظيرة البط التي يمثلها المضلع التالي :



(٣) احسب محيط المضلع المقابل



(٤) ملعب كرة سلة على شكل مستطيل طوله ٨ أمتار وعرضه ٥ أمتار احسب محيطه ؟

٨ أمتار

٥ أمتار

(٥) ملعب كرة سلة على شكل مستطيل طوله ٨ أمتار وعرضه ٥ أمتار احسب مساحته ؟

٥ أمتار

مساحة الملعب = مترا مربعا