



وزارة التربية والتعليم
الإدارة المركزية لتطوير المناهج
مكتب مستشار الرياضيات

برعاية معالي وزير التربية والتعليم السيد الأستاذ / محمد عبد اللطيف

ونوجيهات رئيس الإدارة المركزية لتطوير المناهج

د / أكرم حسن

أداء إن و تقييمات

للفئة الثالث الابتدائي

للعام الدراسي 2024 / 2025

لجنة الإعداد

أ / عادل بيومي

أ / إسلام يسري

لجنة المراجعة

أ / عماد حسن

إشراف علمي

مستشار الرياضيات

أ / منال عزقول

أداء الإِسبوع الأول

الصف الثالث :

أجب عن الأسئلة الآتية :

السؤال الأول : أكتب قاعدة النمط : ٥٨ ، ٥٦ ، ٥٤ ، ٥٢ ، ؟

السؤال الثانى : ارسم تمثيلا بيانيا بالأعمدة باستخدام الجدول التالى :

الإسم	هالة	منى	رباب
المدخرات بالجنيه	٢٠	١٥	١٠

السؤال الثالث : من الرسم البياني السابق : (أ) من أكبرهم ادخارا ؟

(ب) كم تزيد مدخرات منى عن مدخرات رباب ؟

السؤال الرابع : ما هي وحدة الطول المناسبة لقياس إرتفاع النخلة ؟

السؤال الخامس : ما هي وحدة الطول المناسبة لقياس طول الحصان ؟

السؤال السادس : ما هي قاعدة النمط : ○ △ ○ △ ○ △ ؟

السؤال السابع : ما هي الوحدة المناسبة لقياس طول النحلة ؟

السؤال الثامن : أيهما أكبر طولاً ١٠ متر أم ١٠ سم ؟

السؤال التاسع : أيهما أكبر طولاً ٣ سم أم ٣ مم ؟

السؤال العاشر : كم يساوى طول ٣ متر بالسنتيمترات ؟

السؤال الحادى عشر : كم يساوى طول ٤ سنتيمترات بالمليمتر ؟

السؤال الثانى عشر :

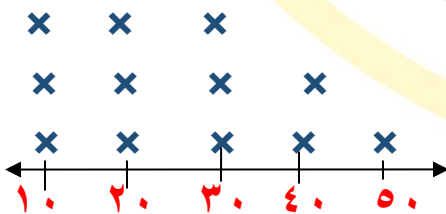
من مخطط التمثيل بالنقاط المقابل الذى يمثل المدخرات بالجنيه

لبعض التلاميذ أجب عما يلى :

(أ) كم عدد التلاميذ الذين ادخروا ٣٠ جنيه ؟

(ب) كم عدد التلاميذ الذين ادخروا أقل من ٥٠ جنيه ؟

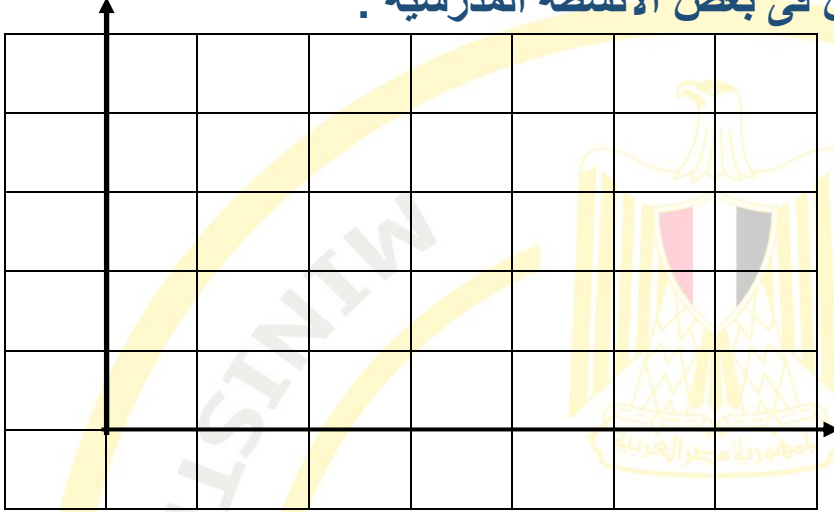
المدخرات بالجنيه



× = ١ تلميذ

السؤال الثالث عشر :

الجدول التالي يوضح عدد التلاميذ المشتركين في بعض الأنشطة المدرسية :



الرياضة	عدد التلاميذ
ثقافي	٤
رياضي	٨
إجتماعي	٦

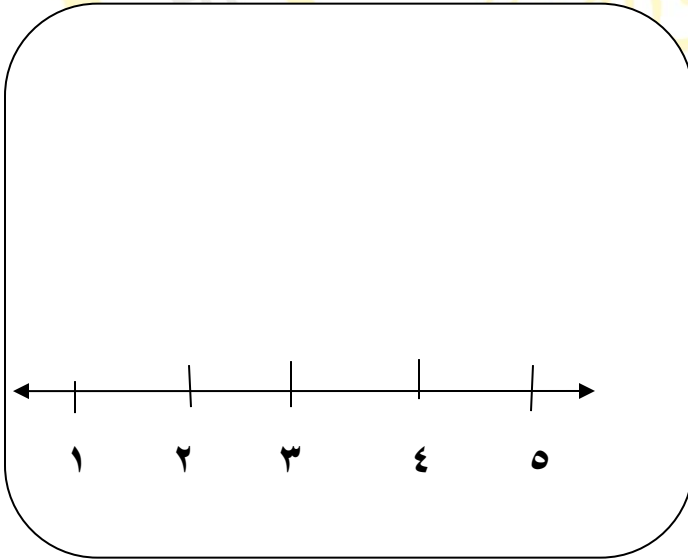
مثل هذه البيانات بالأعمدة ؟

السؤال الرابع عشر :

قدر طول السبورة في فصلك ؟

السؤال الخامس عشر :

الجدول التالي يوضح عدد ساعات المذاكرة لبعض تلاميذ الصف الثالث الابتدائي



عدد الساعات	عدد التلاميذ
١ ساعة	٢
٢ ساعة	٣
٣ ساعات	٤
٤ ساعات	٥
٥ ساعات	٤

$\times =$ تلميذ واحد

مثل الجدول السابق بيانياً بالنقاط ؟