



وزارة التربية والتعليم
الإدارة المركزية لتطوير المناهج
مكتب مستشار الرياضيات

برعاية معالي وزير التربية والتعليم السيد الأستاذ / محمد عبد اللطيف

ونوجيهات رئيس الإدارة المركزية لتطوير المناهج

د / أكرم حسن

أداء إن و نقيمان

للفئة الأولى الابتدائي

للعام الدراسي 2024 / 2025

لجنة الإعداد

أ / علي سيف

أ / صباح عبد الواحد

لجنة المراجعة

أ / عماد حسن


إشراف علمي

مستشار الرياضيات

أ / منال عزقول

الصف الأول - الفصل الدراسي الأول - الأسبوع الأول - (أداء صفى) - حتى درس العدد حتى ٥

١- عد ثم صل حسب العدد المناسب :



٢- أرسم نقاط فى الاطار حسب العدد:



٣- حو ط على الكلمة المناسبة للعدد:




واحد	اثنان	ثلاثة	واحد	اثنان	ثلاثة
------	-------	-------	------	-------	-------

٤- ضع دائرة على الحجم الأكبر:







٥- كم عدد السيارات فى الصورة؟



٦- ما هو الرقم الذى يأتى بعد الرقم ٣؟

٧- ارسم نقاط في الاطار حسب كل عدد :

			
<input type="text"/>	<input type="text"/>	<input type="text"/>	<input type="text"/>

٨- كم عدد البرتقال في الصورة ؟




٩- عد ثم صل حسب العدد المناسب :




٣

٤


٥



١٠- حوط العدد الذي يمثل كل صف :

		
<input type="text"/>	<input type="text"/>	<input type="text"/>

٢

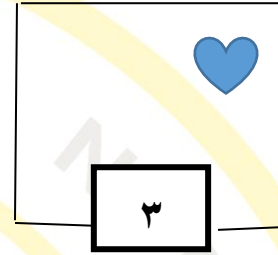
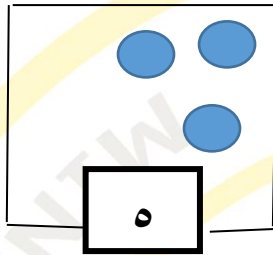
		
<input type="text"/>	<input type="text"/>	<input type="text"/>

٥

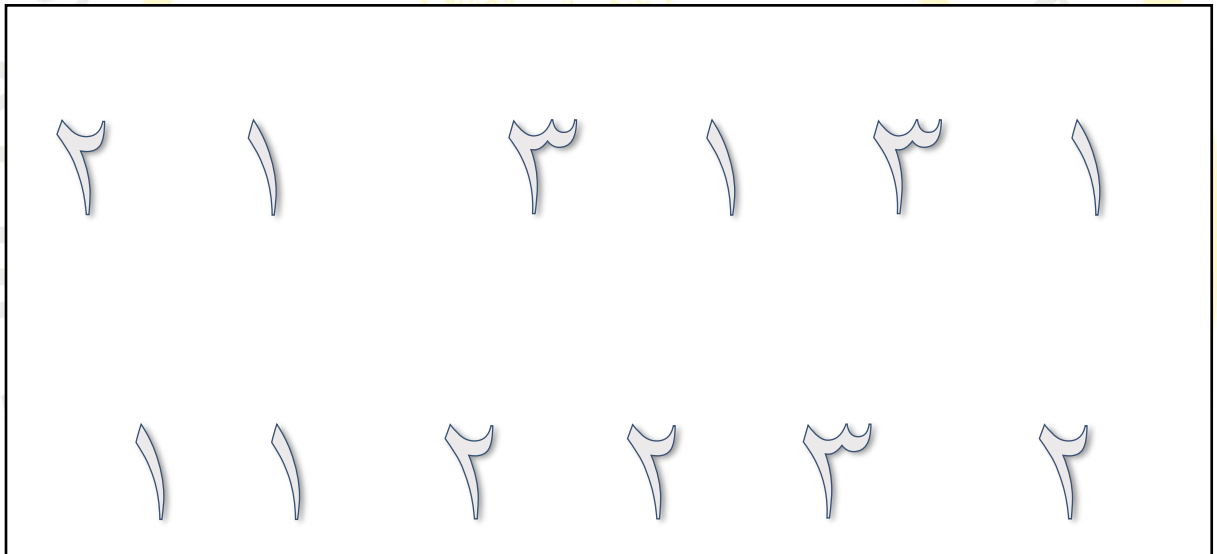


٤

١١ - أكمل الرسم لتحصل على العدد المطلوب :



١٢ - لون العدد ١ باللون الأحمر ، العدد ٢ باللون الأزرق والعدد ٣ باللون الأخضر :



١٣ - كم عدد الاناناس في الصورة ؟





١٥ - ضع دائرة حول العدد المناسب للكلمة:

٣	١	٢
اثنان		

٤	٥	١
أربعة		

٣	٤	١
ثلاثة		