



وزارة التربية والتعليم
الإدارة المركزية لتطوير المناهج
مكتب مستشار الرياضيات

برعاية معالي وزير التربية والتعليم السيد الأستاذ / محمد عبد اللطيف

ونوجيهات رئيس الإدارة المركزية لتطوير المناهج

د / أكرم حسن

إشراف علمي
مستشار الرياضيات

أ / منال عزقول

أداءات و تقييمات

للفص الأول الابتدائي

للعام الدراسي ٢٠٢٤ / ٢٠٢٥

لجنة الإعداد

أ / علي سيف


أ / صباح عبد الواحد

لجنة المراجعة

أ / عماد حسن

الصف الأول - الفصل الدراسي الأول - الأسبوع الثاني - (تقييم اسبوعي) - حتى درس مقارنة الأشياء من حيث الحجم والشكل واللون

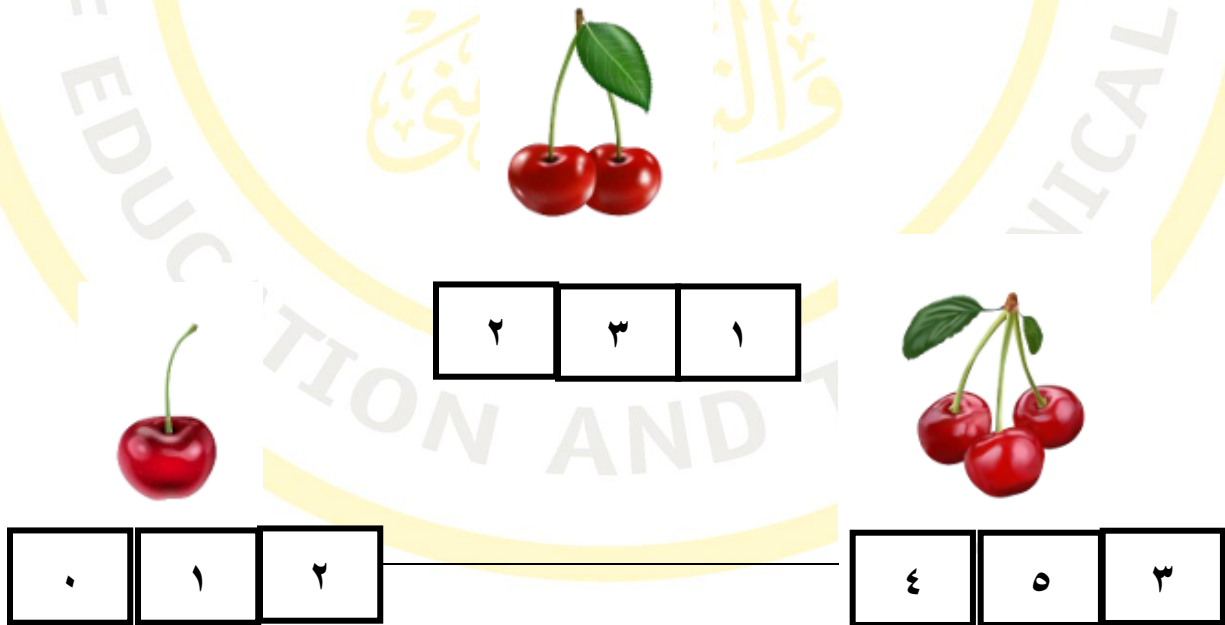
١- عد ثم أكتب العدد :



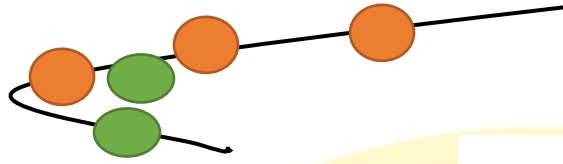
٢- أرسم نقاط في الاطار حسب العدد وأكتب العدد :



٣- عد الأشياء في كل مجموعة واكتب العدد :



٤- عد ثم أكتب العدد المناسب :



٥- ضع دائرة على الحجم الأكبر :



٦- عد ثم أكتب العدد :



٧- ما هو العدد الذي يأتي بعد العدد صفر؟

٨- حوظ حسب عدد النقاط في الاطار :



	•	•	•	•

			•	•	

		•	•	•	

٩- أكتب الأعداد الناقصة على الخط :



١٠- عد ثم صل حسب العدد المناسب :

٤

٢




٣



١١- حوط على الحجم الأكبر :



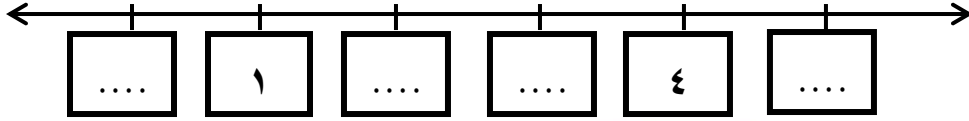
١٢- أكمل الرسم لتحصل على العدد المطلوب :



١٣- كم عدد البرانقالات في الصورة؟



١٤ - أكتب الأعداد الناقصة على خط الأعداد :



١٥ - ضع دائرة حول العدد المناسب للكلمة :

٣ ١ ٢
اثنان

٤ ٥ ١
أربعة

٣ ٤ ١
ثلاثة