



وزارة التربية والتعليم
الإدارة المركزية لتطوير المناهج
مكتب مستشار الرياضيات

برعاية معالي وزير التربية والتعليم السيد الأسناذ / محمد عبد اللطيف

ونوجيهات رئيس الإدارة المركزية لتطوير المناهج

د / أكرم حسن

إشراف علمي
مستشار الرياضيات

أ / منال عزقول

أداءات و تقييمات

للفص الأول الابتدائي

للعام الدراسي ٢٠٢٤ / ٢٠٢٥

لجنة الإعداد

أ / علي سيف

أ / صباح عبد الواحد

لجنة المراجعة

أ / عماد حسن

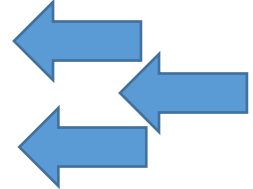

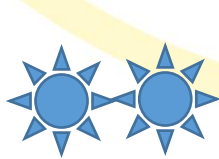


الصف الأول - الفصل الدراسي الأول - الاسبوع الثاني - (أداء منزلي) - مقارنة الأشياء من حيث الحجم والشكل واللون

١- تتبع وأكتب العدد :



٢- عد ثم أكتب العدد المناسب :



٣- عد النقاط في كل اطار ثم أكتب العدد:



.....

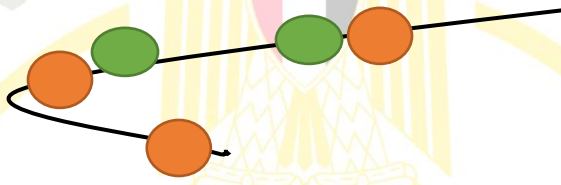
.....



.....

.....

٤- عد ثم أكتب العدد المناسب:



٥- ضع دائرة على الحجم الأكبر:

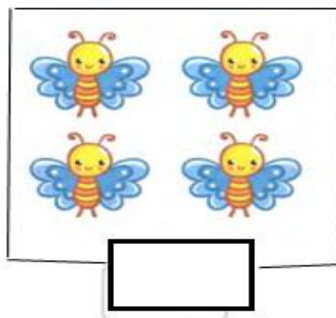


٦- ما هو الرقم الذي يأتي بعد الرقم ٤؟

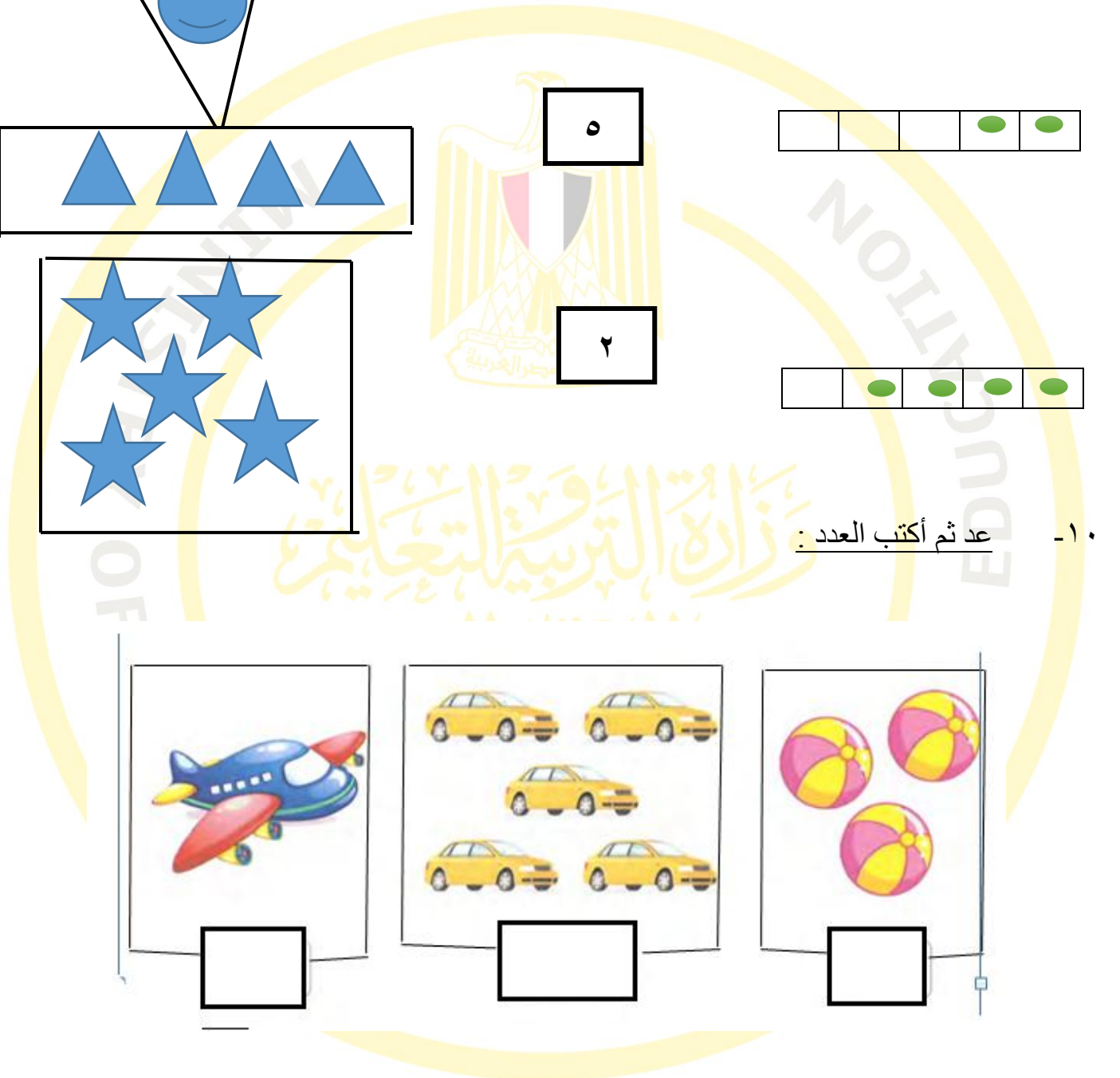
٧- أكتب الأعداد الناقصة على الخط:



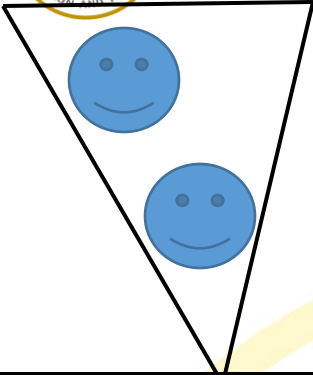
٨- كم عدد الفراشات في الصورة؟




٩- عد ثم صل العدد المناسب :




٤



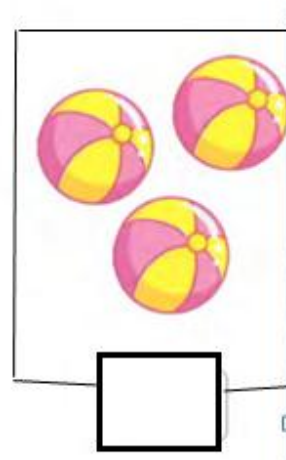


٥



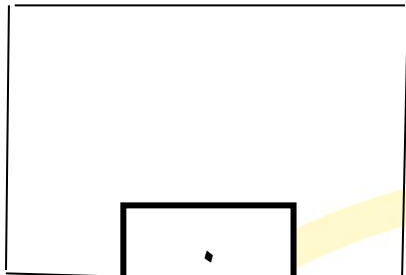


٢




١٠- عد ثم أكتب العدد :





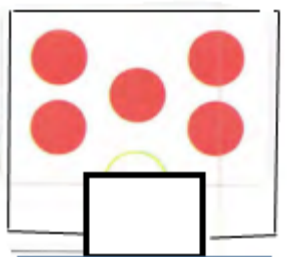
١١ - أكمل الرسم لتحصل على العدد المطلوب :

		
<input type="text" value="٠"/>	<input type="text" value="٣"/>	<input type="text" value="٢"/>




١٢ - حوط الاشكال التي لها نفس اللون :



١٣ - عد ثم أكتب العدد :

		
<input type="text"/>	<input type="text"/>	<input type="text"/>

١٤ - عد ثم أكتب العدد :

		
<input type="text"/>	<input type="text"/>	<input type="text"/>

١٥ - أكتب العدد :

<input type="text" value="....."/>	<input type="text" value="....."/>	<input type="text" value="....."/>
<input type="text" value="ثلاثة"/>	<input type="text" value="واحد"/>	<input type="text" value="أربعة"/>