



وزارة التربية والتعليم
الإدارة المركزية لتطوير المناهج
مكتب مستشار الرياضيات

برعاية معالي وزير التربية والتعليم السيد الأستاذ / محمد عبد اللطيف

ونوجيهات رئيس الإدارة المركزية لتطوير المناهج

د / أكرم حسن

إشراف علمي
مستشار الرياضيات

أ / منال عزقول

أداءات و تقييمات

للفص الأول الابتدائي

للعام الدراسي ٢٠٢٤ / ٢٠٢٥

لجنة الإعداد

أ / صباح عبد الواحد

لجنة المراجعة


أ / عماد حسن

الصف الأول — الاسبوع الثالث — (أداء منزلى) - ترم 1

-1


* أكتب العدد :

(ج)




.....

(ب)



.....

(د)




.....


2- أكتب العدد :

٦	٦	٦	٦	٦
			٦	٦

3- عد ثم أكتب العدد:



سبعة



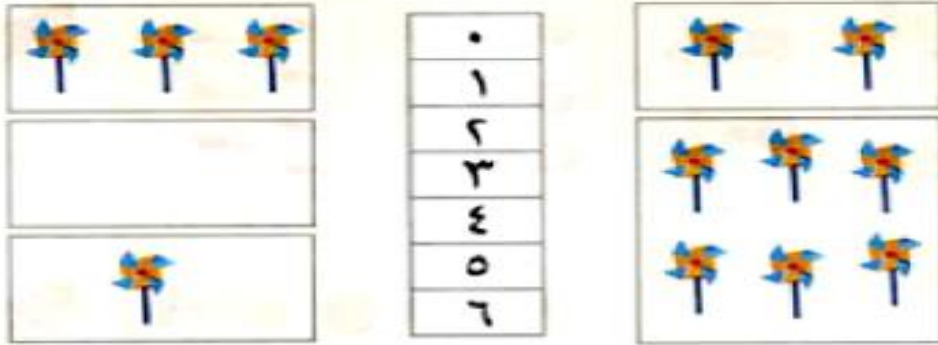
سبعة

أكتب العدد المبين : ◀

v	v	v	v	v
			v	v

-5

صل المجموعة بالعدد المناسب :

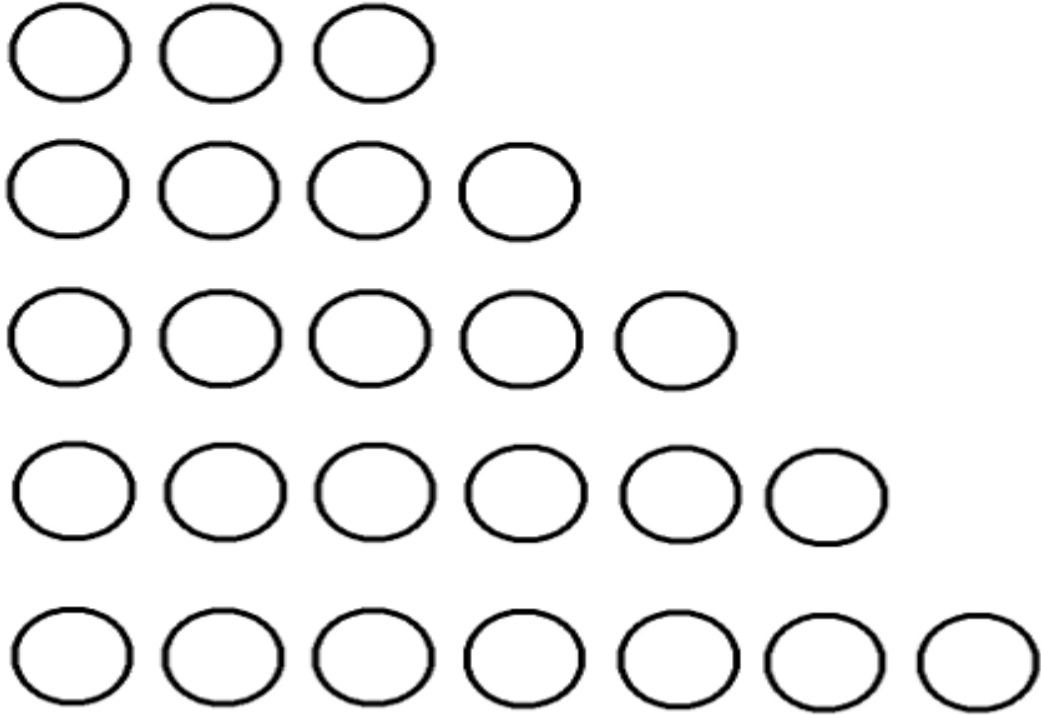


6- حوط لتكون مجموعة من 7 تفاحات :

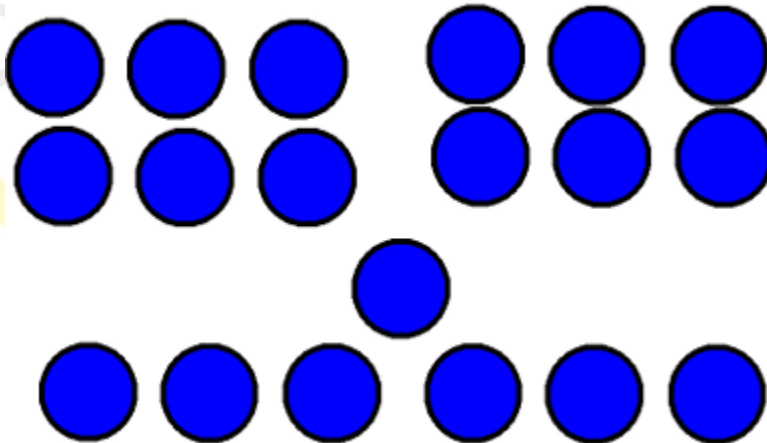


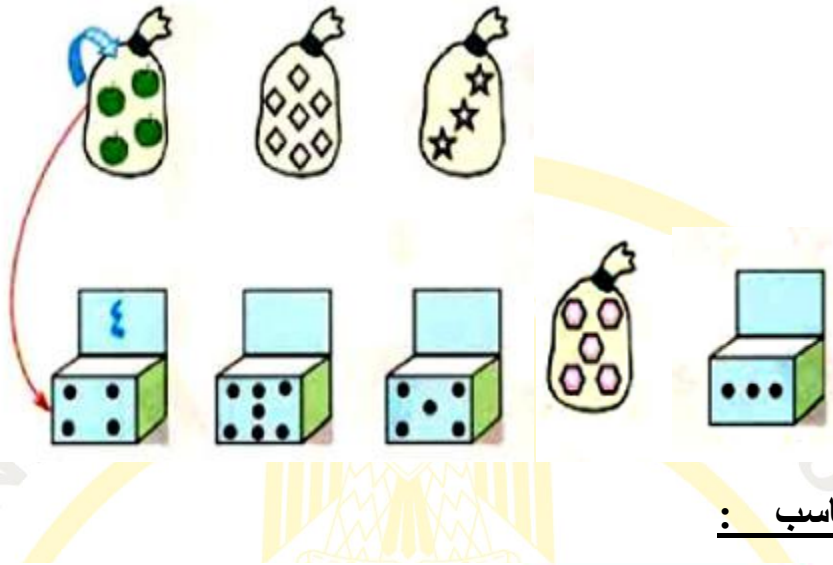
نوع عدد من الدوائر حسب اللون المعطى لكل عدد :

					
٠	٤	٦	٥	٧	٣



8 - حوط لتكون مجموعة من 6 كرات:

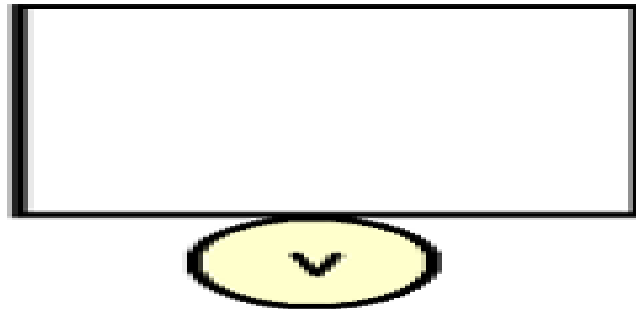




10- عد ثم اكتب العدد المناسب :



11- ارسم دوائر داخل الإطار حسب العدد :



- 12

