



وزارة التربية والتعليم
الإدارة المركزية لتطوير المناهج
مكتب مستشار الرياضيات

برعاية معالي وزير التربية والتعليم السيد الأسناذ / محمد عبد اللطيف

ونوجيهات رئيس الإدارة المركزية لتطوير المناهج

د / أكرم حسن

إشراف علمي
مستشار الرياضيات

أ / منال عزقول

إداءات ونقييمات لمنهج الرياضيات

للفص الأول الابتدائي
للعام الدراسي 2024 / 2025
إعداد

أ / صباح عبد الواحد

مراجعة

أ / عماد حسن

ترجمة

أ / صباح عبد الواحد

مراجعة الترجمة

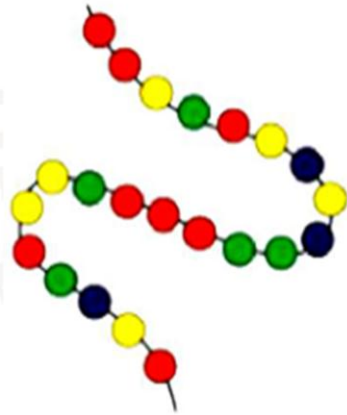
أ / شريف البرهامي





الرياضيات بالانجليزية - الصف الأول — الاسبوع الرابع - (أداء منزلى) - ترم ١

1- Rewrite the number 8 :


8	8	8	8	8
8	8	8	8	8
8	8	8	8	8
8	8	8	8	8

2- write the number of eads of each color :



The color	The numer
	
	
	
	

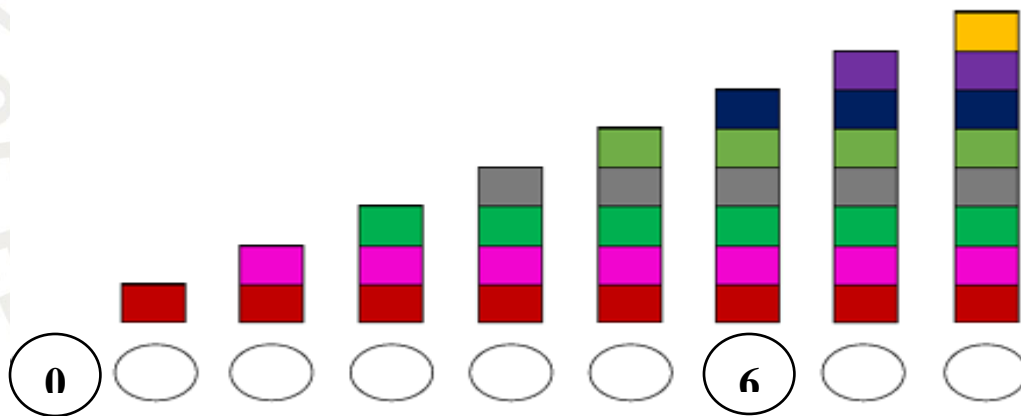
3- Make a group of 8 apples




4- Rewrite the number 9 :

9	9	9	9	9
9	9	9	9	9
9	9	9	9	9
9	9	9	9	9

5- Count then write the number:



6- Rewrite the number of fingers on the raised hand :



7- Rewrite the number 10 :


10	10	10	10	10
10	10	10	10	10
10	10	10	10	10
10	10	10	10	10

8- Count and choose the suitable number;



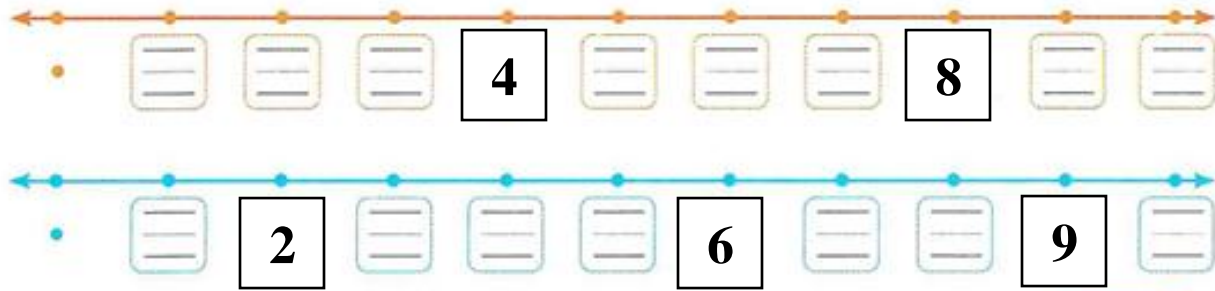
Nine eight ten 10 5 6

9- Notice the picture, then count and write the number:




<input type="text"/>		<input type="text"/>		<input type="text"/>		<input type="text"/>		<input type="text"/>	
----------------------	---	----------------------	---	----------------------	---	----------------------	---	----------------------	---

10- Complete by writing the numbers on the number line :



11- circle according to the number



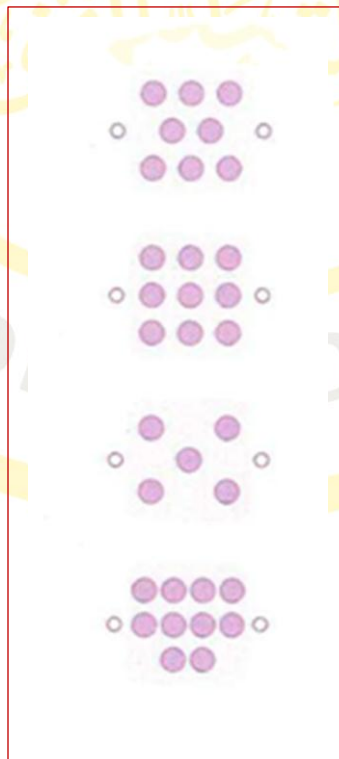
9

8

10

12- Match :

5
10
9
8



Ten
Nine
Eight
Five

13- Count and match with the suitable number;



10

9

7

8

14- What number comes after 9 ?

15 – Draw circles inside the fame according to the number below it :



8



7



9