



وزارة التربية والتعليم  
الإدارة المركزية لتطوير المناهج  
مكتب مستشار الرياضيات

# برعاية معالي وزير التربية والتعليم السيد الأستاذ / محمد عبد اللطيف

ونوجيهات رئيس الإدارة المركزية لتطوير المناهج

**د / أكرم حسن**

إشراف علمي  
مستشار الرياضيات

**أ / منال عزقول**

**إداءات ونقيمان لمنهج الرياضيات**

للفص الأول الابتدائي  
للعام الدراسي 2024 / 2025  
إعداد

**أ / صباح عبد الواحد**

مراجعة

**أ / عماد حسن**

ترجمة

**أ / صباح عبد الواحد**

مراجعة الترجمة

**أ / شريف البرهامي**



الرياضيات بالانجليزية- الصف الأول — الاسبوع الخامس- ( أداء صفى )- ترم ١

1- Count and write the number ,then choose the correct answer ;



(Less than 1 – More than 1) On

2- write the number that is 1 less than the written numbers:

8

6

3

5

3- write the number that is 1 more than the written numbers:

7

8

4

4- Complete the following :

Less than 1 2

more than 1

5- Complete the following:

10 more than 1on

more than 1on 3

Less than 1 on 8

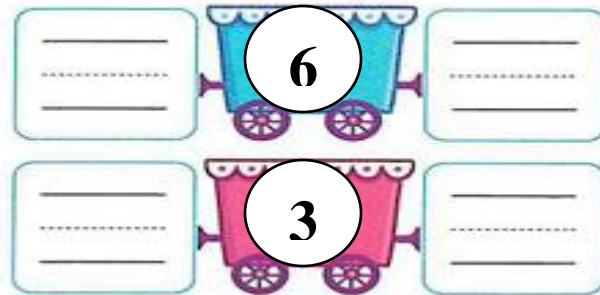
**6-Write the next number :**



**7-Write the previous number :**



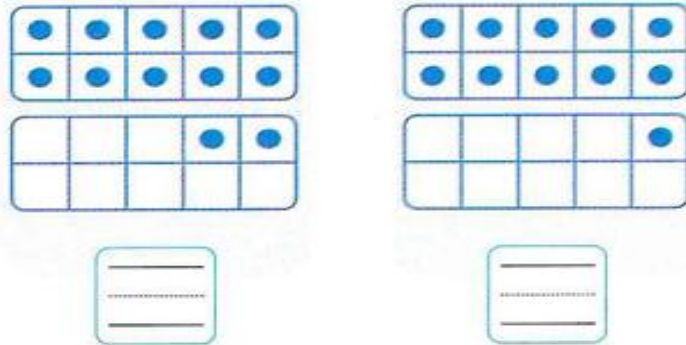
**8-Write the previous number the next number:**




**9- complete the number in the number line :**



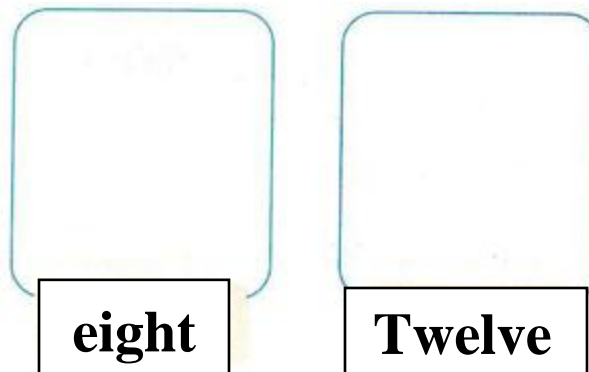
**10-Count, then write the number:**



**11-Count and match with the suitable number:**



**12- Draw according to the number**



**13- complete as in the example :**

--	--	--

**14-Count, then write the number:**

**15-Count, then write the total number:**