



وزارة التربية والتعليم
الإدارة المركزية لتطوير المناهج
مكتب مستشار الرياضيات

برعاية معالي وزير التربية والتعليم السيد الأسناذ / محمد عبد اللطيف

ونوجيهات رئيس الإدارة المركزية لتطوير المناهج

د / أكرم حسن

إشراف علمي
مستشار الرياضيات

أ / منال عزقول

إداءات ونقييمات لمنهج الرياضيات

للفص الأول الابتدائي
للعام الدراسي 2024 / 2025
إعداد

أ / صباح عبد الواحد

مراجعة

أ / عماد حسن

ترجمة

أ / صباح عبد الواحد

مراجعة الترجمة

أ / شريف البرهامي



Group 1

1- Write the next number :

| | | | |
|------------------------------------|----------------------|----------------------------------|----------------------|
| <input type="text" value="2"/> | <input type="text"/> | <input type="text" value="1"/> | <input type="text"/> |
| <input type="text" value="three"/> | <input type="text"/> | <input type="text" value="six"/> | <input type="text"/> |

2- Write the previous number :

| | | | |
|----------------------|------------------------------------|----------------------|----------------------------------|
| <input type="text"/> | <input type="text" value="2"/> | <input type="text"/> | <input type="text" value="3"/> |
| <input type="text"/> | <input type="text" value="eight"/> | <input type="text"/> | <input type="text" value="one"/> |

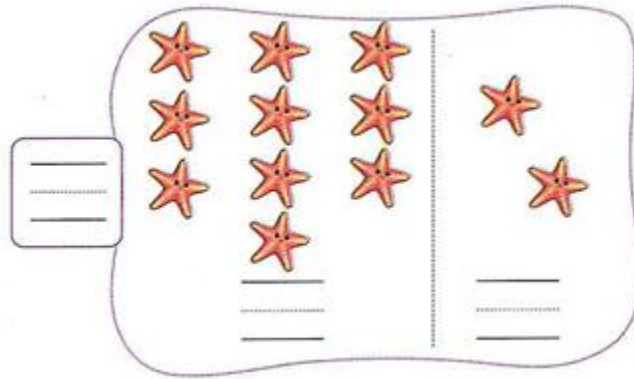
3- Complete the following :

- the number before 3 is
- the number that is 1 less than 7

4-Count, then write the number:

| | | | | |
|---|---|---|---|---|
| ● | ● | ● | ● | ● |
| ● | ● | ● | ● | ● |
| | | | | ● |

5- Count, then write the number:



Group 2

1- Write the next number :

| | | | |
|-------|----------------------|-------|----------------------|
| 5 | <input type="text"/> | 2 | <input type="text"/> |
| seven | <input type="text"/> | three | <input type="text"/> |


2- Write the previous number

| | | | |
|----------------------|-------|----------------------|-------|
| <input type="text"/> | 6 | <input type="text"/> | 2 |
| <input type="text"/> | foure | <input type="text"/> | eight |

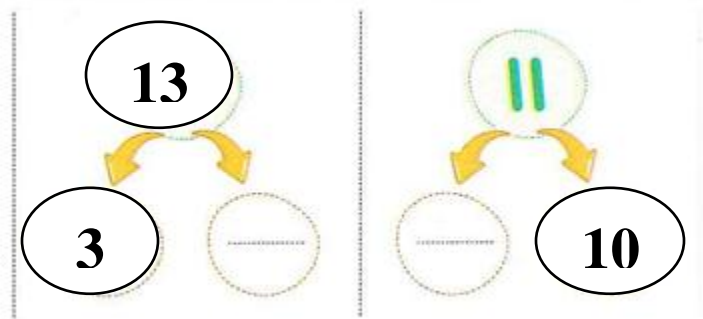
3- Complete the following :

- the number before 9 is
- the number that is 1 less than 7

4- Count and match with the suitable number:

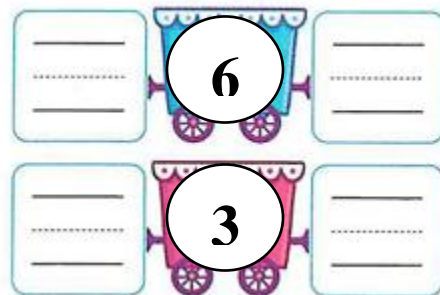


5- complete:



Group 3

1- Write the previous number the next number:





2- circle the correct number :

3 more than 10n 2 4

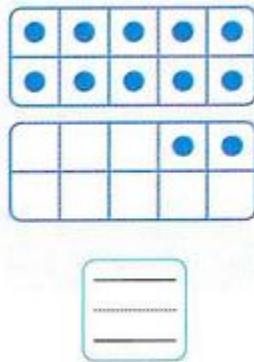
9 Less than 1 on 8 10

3- Draw ● according to the number:



thirteen

4- Count, then write the number:



5- Count, then write the number:

