



وزارة التربية والتعليم
الإدارة المركزية لتطوير المناهج
مكتب مستشار الرياضيات

برعاية معالي وزير التربية والتعليم السيد الأستاذ / محمد عبد اللطيف

ونوجيهات رئيس الإدارة المركزية لتطوير المناهج

د / أكرم حسن

إشراف علمي
مستشار الرياضيات

أ / منال عزقول

إدعاءات ونقييمات لمنهج الرياضيات

للفص الأول الابتدائي
للعام الدراسي 2024 / 2025
إعداد

أ / صباح عبد الواحد

مراجعة

أ / عماد حسن

ترجمة

أ / صباح عبد الواحد

مراجعة الترجمة

أ / شريف البرهامي



الرياضيات بالانجليزية - الصف الأول - الاسبوع الخامس - (أداء منزلى) - ترم ١

1-Count and write the number ,then choose the correct answer

Less than 1 - More than 1) On

4 9 7

2- write the number that is 1 more than the written numbers:


4 9 7

3- Complete the following :

Less than 1 2 more than 1

Less than 1 8 more than 1

4-Write the next number :



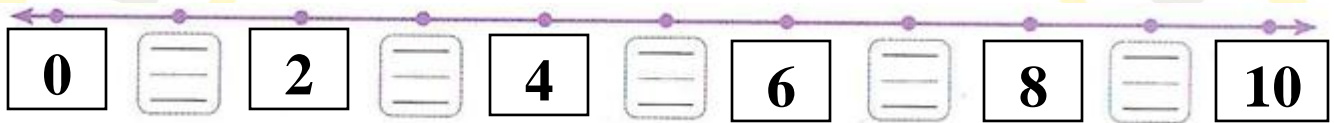
5- Write the previous number :




6-Write the previous number the next number:




7-complete the number in the number line :



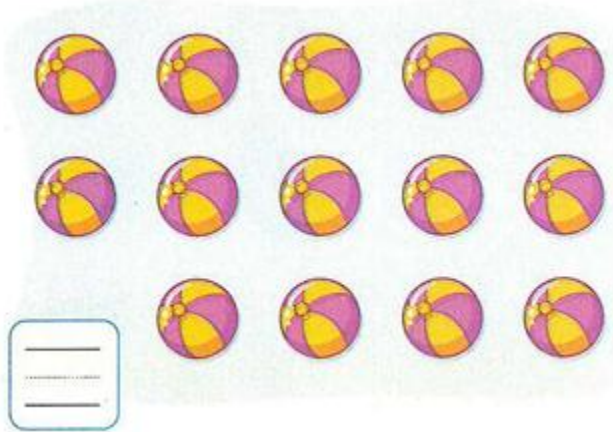
8- circle 11 from each group and write the number :



9- circle 12 from each group and write the number :



10 - circle 13 from each group and write the number :




11-Count and match with the suitable number;

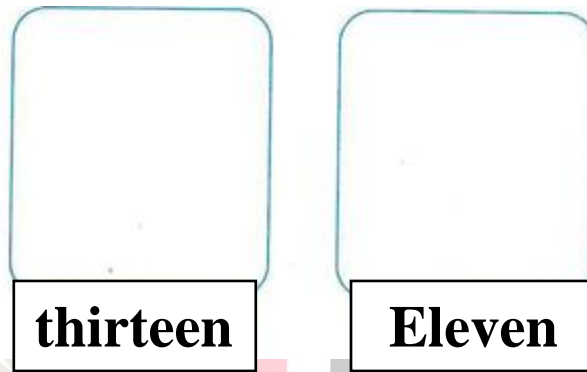


11

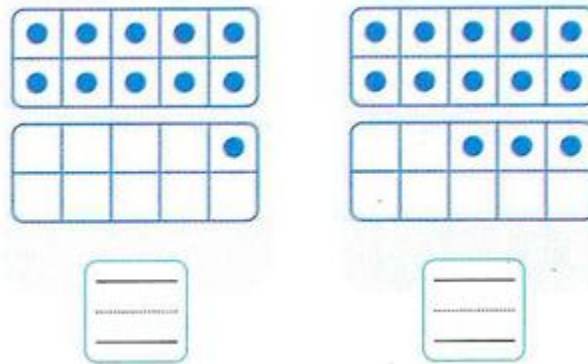
10



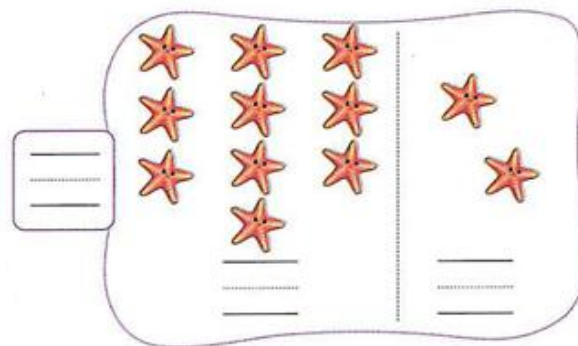
12- Draw according to the number:



13- Count, then write the number:



14- Count, then write the number:



15- complete as in the example :

