



وزارة التربية والتعليم
الإدارة المركزية لتطوير المناهج
مكتب مستشار الرياضيات

برعاية معالي وزير التربية والتعليم السيد الأسناذ / محمد عبد اللطيف

ونوجيهات رئيس الإدارة المركزية لتطوير المناهج

د / أكرم حسن

إشراف علمي
مستشار الرياضيات

أ / منال عزقول

أداءات وتقييمات لمنهج الرياضيات

لصف الأول الابتدائي

للعام الدراسي 2024 / 2025

إعداد

أ / صباح عبد الواحد

مراجعة

أ / عماد حسن

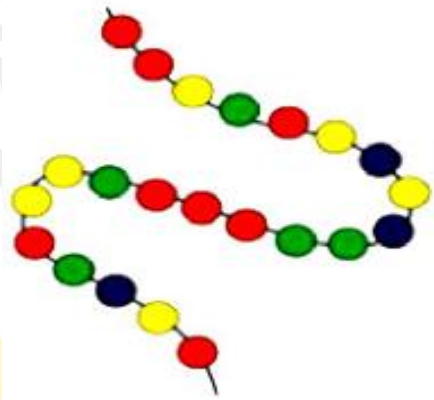
الرياضيات - الصف الأول - الأسبوع الرابع - (أداء منزلي) - ترم 1

1- اعد كتابة العدد :

٨	٨	٨	٨	٨
٨	٨	٨	٨	٨
٨	٨	٨	٨	٨
٨	٨	٨	٨	٨

2-

أكتب عدد الخرزات من كل لون :



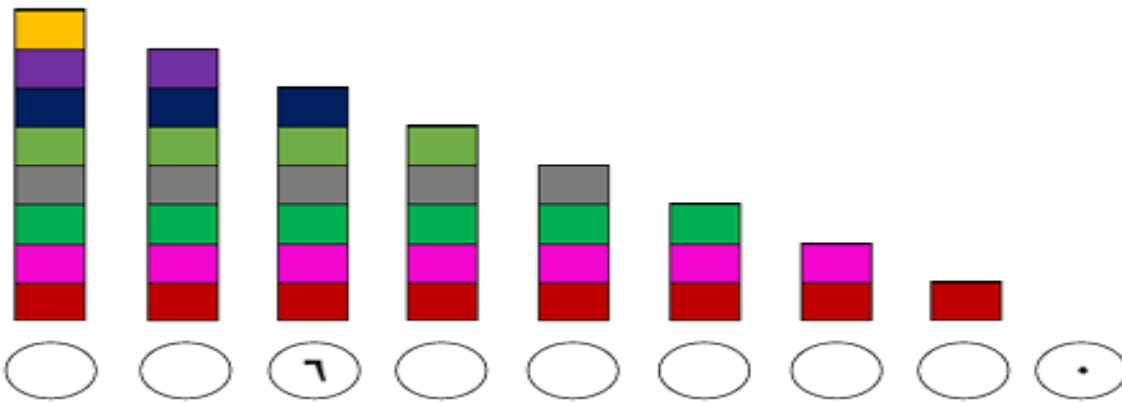
اللون	العدد
●	
●	
●	
●	
●	

3- كون مجموعة من 8 تفاحات :




9	9	9	9	9
9	9	9	9	9
9	9	9	9	9
9	9	9	9	9

5- عد ثم اكتب العدد :



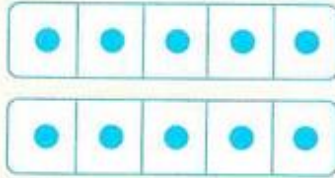
6- اكتب عدد اصابع اليد المرفوعة :




7- اعد كتابة العدد :

١٠	١٠	١٠	١٠	١٠
١٠	١٠	١٠	١٠	١٠
١٠	١٠	١٠	١٠	١٠
١٠	١٠	١٠	١٠	١٠

8- عد ثم اختر العدد المناسب :




تسعة ثمانية عشرة

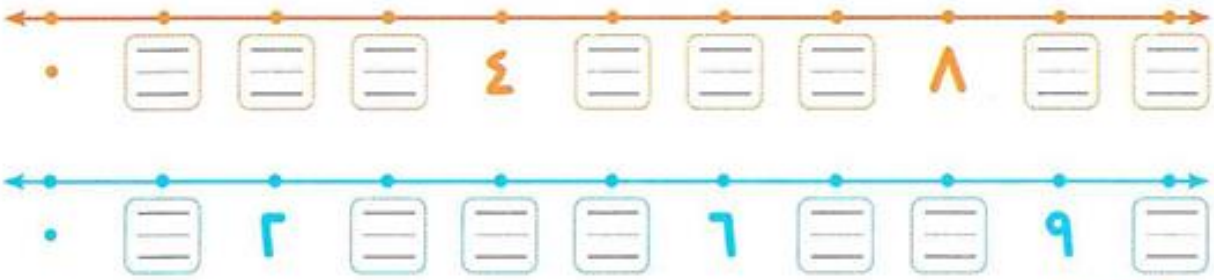


١٠ ٥ ٦


9- لاحظ الصورة ، ثم عد واكتب العدد :



10- اكمل بكتابة الاعداد على خط الاعداد :




11- حو ط حسب العدد المطلوب :



12 - وصل :

٥
١٠
٩
٨



- عشرة
- تسعة
- ثمانية
- خمسة

13 - عد ثم صل بالعدد المناسب :



14 - ما العدد الذي يأتي بعد العدد 9؟
- 15

○ أرسم عدد من الدوائر داخل الإطار بحسب العدد أسفله :

