



وزارة التربية والتعليم
الإدارة المركزية لتطوير المناهج
مكتب مستشار الرياضيات

برعاية معالي وزير التربية والتعليم السيد الأسناذ / محمد عبد اللطيف

ونوجيهات رئيس الإدارة المركزية لتطوير المناهج

د / أكرم حسن

إشراف علمي
مستشار الرياضيات

أ / منال عزقول

إداءات و تقييمات لمنهج الرياضيات

للفصل الأول الإعدادي

للعام الدراسي 2024 / 2025

إعداد

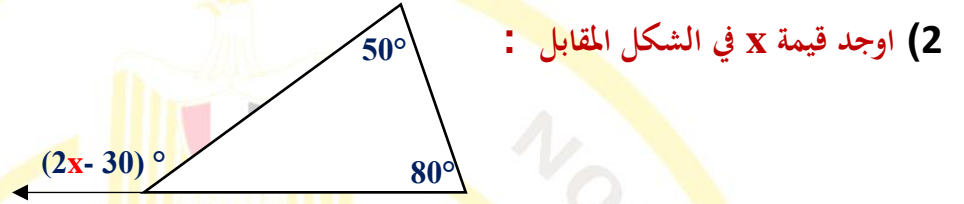
أ / أيمن رجب

مراجعة

أ / حسين جلال

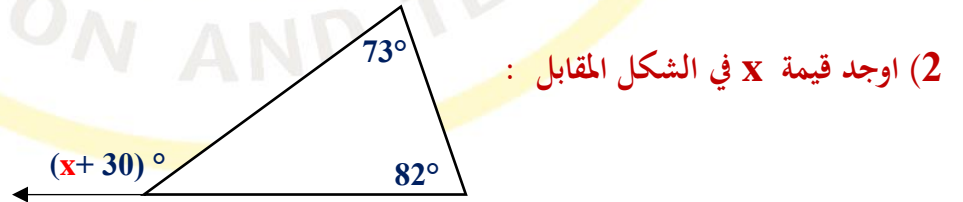
أ / عماد حسن

رياضيات - 1 ع - الأسبوع العاشر - تقييم اسبوعي 1



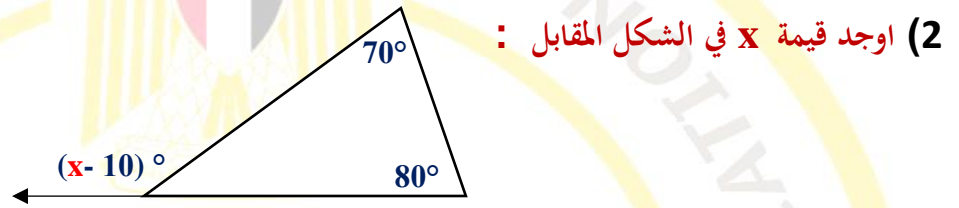
- (3) إذا كان مجموع زاويتين في مثلث يساوي 104° ، فما هو قياس الزاوية الثالثة ؟
(4) مثلث قياس زاويتين فيه 24° ، 36° ، فما هو نوع المثلث بالنسبة لزاويه ؟
(5) مثلث قائم الزاوية قياس إحدي زاويه 63° ، فما هو قياس الزاوية الثالثة ؟

رياضيات - 1 ع - الأسبوع العاشر - تقييم اسبوعي 2



- (3) إذا كان مجموع زاويتين في مثلث يساوي 80° ، فما هو قياس الزاوية الثالثة ؟
(4) مثلث قياس زاويتين فيه 65° ، 25° ، فما هو نوع المثلث بالنسبة لزاويه ؟
(5) مثلث قائم الزاوية قياس إحدي زاويه 48° ، فما هو قياس الزاوية الثالثة ؟

رياضيات - 1 ع - الأسبوع العاشر - تقييم اسبوعي 3



- (3) إذا كان مجموع زاويتين في مثلث يساوي 145° ، فما هو قياس الزاوية الثالثة ؟
- (4) مثلث قياس زاويتين فيه ، 70° ، 54° ، فما هو نوع المثلث بالنسبة لزاوياه ؟
- (5) مثلث قائم الزاوية قياس إحدي زاوياه 71° ، فما هو قياس الزاوية الثالثة ؟